

Data: ___/___/2017

Professora: *Angela*

Disciplina: **Geografia**

Nome: _____

nº: _____

Ano: **6º** _____

2º
bimestre

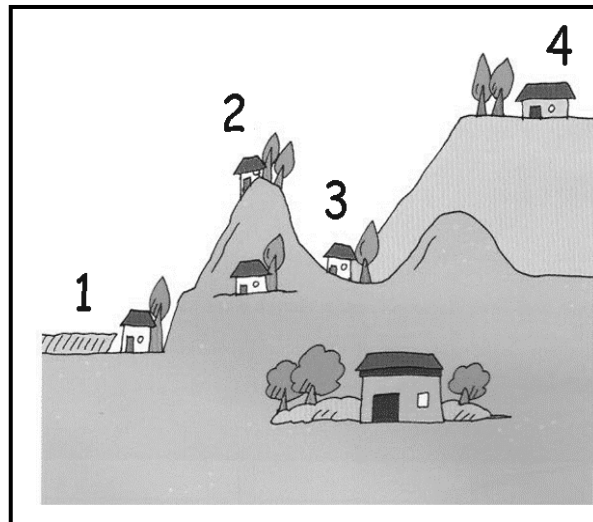
Trabalho de Recuperação de Geografia

Orientações:

- Leia atentamente as questões propostas;
- Realize-as com muita atenção e com letra legível;
- Responda **todas** as questões com caneta azul ou preta;
- Evite rasuras e não utilize corretivo;
- Observe com atenção as imagens;
- Para realizar este Trabalho de Recuperação você poderá consultar sua apostila, dicionário e/ou outras fontes (livros, internet...), caso necessite.

Ciente (assinatura do (a) responsável): _____

1- Sobre as **formas de** relevo, observe atentamente a imagem abaixo.



Defina cada uma delas.

2- Defina:

- Clima: _____

- Tempo: _____

3- O tempo atmosférico é determinado por cinco elementos naturais chamados *elementos climáticos*.

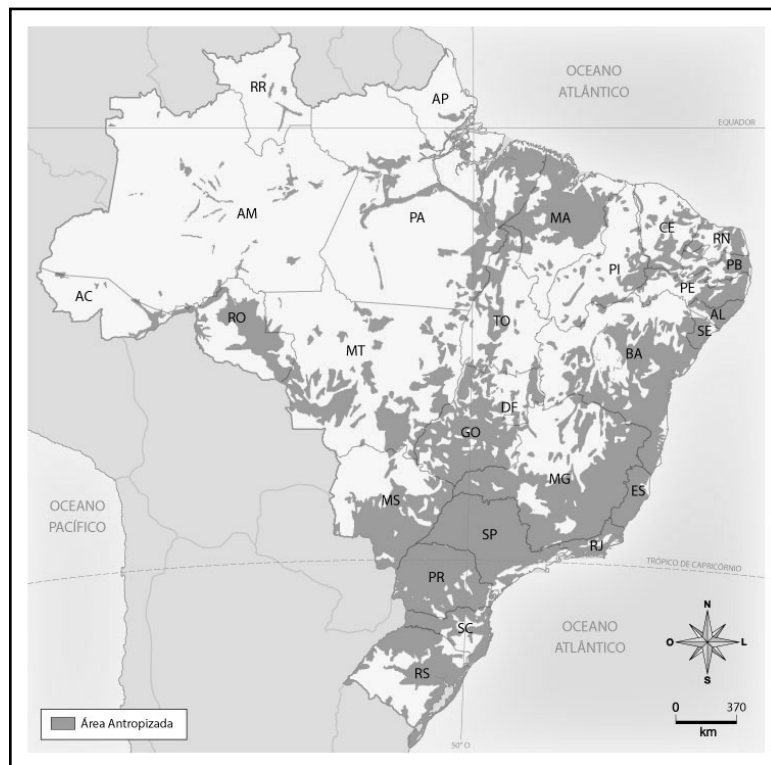
- Identifique-os e explique-os.

4- Caracterize a Floresta Amazônica e a Mata Atlântica.

- Floresta Amazônica: _____

➤ Mata Atlântica: _____

5- Observe atentamente o mapa e, a seguir, responda ao que se pede.



No ano de 2004 o IBGE publicou o mapa dos biomas do Brasil e, em virtude do desmatamento, alguns deixaram de ser mencionados. O mapa acima, sobre as áreas antropizadas, revela que mesmo os biomas identificados pelo IBGE também já sofreram muita alteração.

a. Identifique os dois biomas que deixaram de ser mencionados.

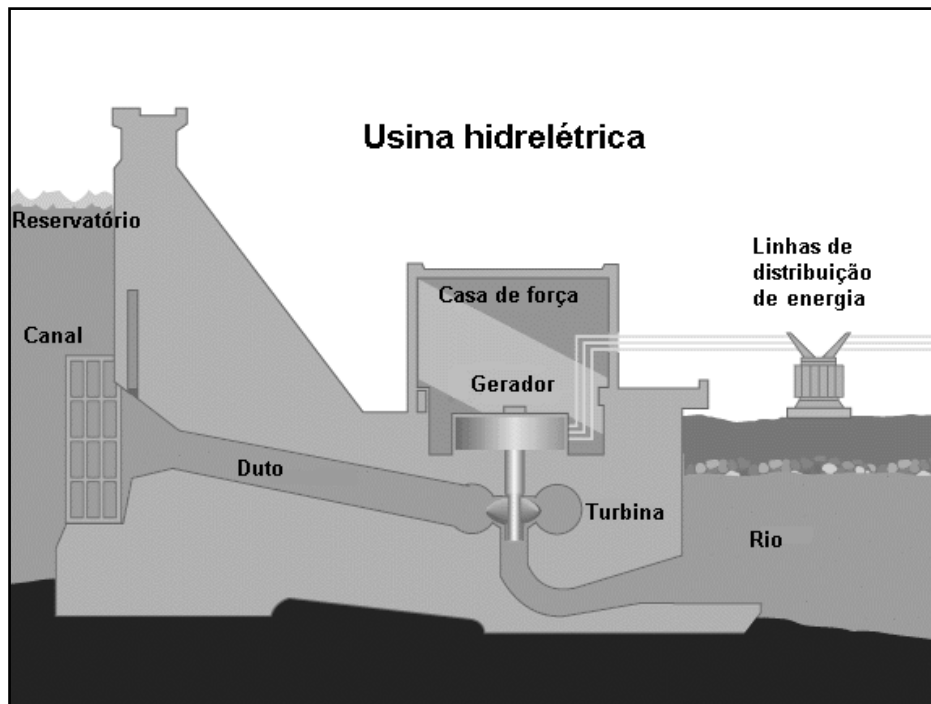
b. Defina *área antropizada*.

6- Leia atentamente o texto e comente-o, utilizando **suas próprias palavras**.

A importância da água na vida do planeta é de tamanha proporção, posto que é um elemento essencial para a sobrevivência de animais e vegetais na Terra. Nesse sentido, quando falta água, a vida está ameaçada, uma vez que a água é a fonte de vida do planeta.

Estamos tão habituados à presença da água que só damos conta da sua importância quando ela nos faz falta. Note que a maior parte das células de nosso corpo possui água, sendo que os vegetais e animais precisam dela para viver.

7- Observe atentamente a imagem e explique como funciona uma hidrelétrica.



8- Observe atentamente o mapa.



As principais bacias hidrográficas brasileiras são muito extensas e estão divididas em bacias principais e secundárias, como é possível observar no mapa acima.

➤ Caracterize a Bacia Amazônica: _____

➤ Identifique a bacia que mais gera energia elétrica no Brasil e descreva-a.

➤ Caracterize a Bacia do São Francisco: _____
