



## ENSINO MÉDIO

Valor da prova/atividade:  
2,0

Nota:

Data: \_\_\_/\_\_\_/2017

Professora: Barbara

Disciplina: Biologia

Nome: \_\_\_\_\_

nº: \_\_\_\_\_

Série: 1ª

4º Bimestre

### TRABALHO DE RECUPERAÇÃO- BIOLOGIA

**ATENÇÃO:** A atividade deverá ser entregue no dia estipulado, não sendo aceito após a data marcada.

1. Portadores de diabetes *insipidus* reclamam da confusão feita pelos profissionais da saúde quanto aos dois tipos de diabetes: *mellitus* e *insipidus*. Enquanto o primeiro tipo está associado aos níveis ou à ação da insulina, o segundo não está ligado à deficiência desse hormônio. O diabetes *insipidus* é caracterizado por um distúrbio na produção ou no funcionamento do hormônio antidiurético (na sigla em inglês, ADH), secretado pela neuro-hipófise para controlar a reabsorção de água pelos túbulos renais.

Tendo em vista o papel funcional do ADH, qual é um sintoma clássico de um paciente acometido por diabetes *insipidus*?

- a) Alta taxa de glicose no sangue.
- b) Aumento da pressão arterial.
- c) Ganho de massa corporal.
- d) Anemia crônica.
- e) Desidratação.

2. Durante uma expedição, um grupo de estudantes perdeu-se de seu guia. Ao longo do dia em que esse grupo estava perdido, sem água e debaixo de sol, os estudantes passaram a sentir cada vez mais sede. Conseqüentemente, o sistema excretor desses indivíduos teve um acréscimo em um dos seus processos funcionais.

Nessa situação o sistema excretor dos estudantes

- a) aumentou a filtração glomerular.
- b) produziu maior volume de urina.
- c) produziu urina com menos ureia.
- d) produziu urina com maior concentração de sais.
- e) reduziu a reabsorção de glicose e aminoácidos.

3. Um pesquisador percebe que o rótulo de um dos vidros em que guarda um concentrado de enzimas digestivas está ilegível. Ele não sabe qual enzima o vidro contém, mas desconfia de que seja uma protease gástrica, que age no estômago digerindo proteínas. Sabendo que a digestão no estômago é ácida e no intestino é básica, ele monta cinco tubos de ensaio com alimentos diferentes, adiciona o concentrado de enzimas em soluções com pH determinado e aguarda para ver se a enzima age em algum deles.

O tubo de ensaio em que a enzima deve agir para indicar que a hipótese do pesquisador está correta é aquele que contém

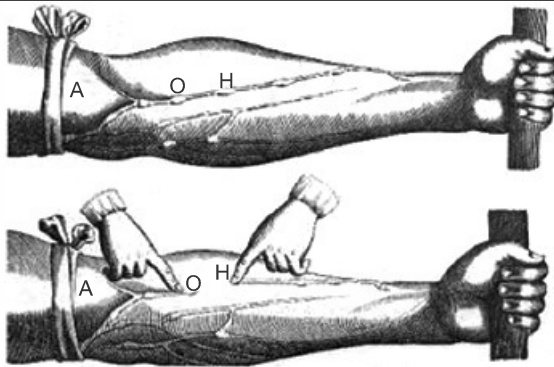
- a) cubo de batata em solução com  $\text{pH} = 9$ .
- b) pedaço de carne em solução com  $\text{pH} = 5$ .
- c) clara de ovo cozida em solução com  $\text{pH} = 9$ .
- d) porção de macarrão em solução com  $\text{pH} = 5$ .
- e) bolinha de manteiga em solução com  $\text{pH} = 9$ .

4. As serpentes que habitam regiões de seca podem ficar em jejum por um longo período de tempo devido à escassez de alimento. Assim, a sobrevivência desses predadores está relacionada ao aproveitamento máximo dos nutrientes obtidos com a presa capturada. De acordo com essa situação, essas serpentes apresentam alterações morfológicas e fisiológicas, como o aumento das vilosidades intestinais e a intensificação da irrigação sanguínea na porção interna dessas estruturas.

A função do aumento das vilosidades intestinais para essas serpentes é maximizar o(a)

- a) comprimento do trato gastrointestinal para caber mais alimento.
- b) área de contato com o conteúdo intestinal para absorção dos nutrientes.
- c) liberação de calor via irrigação sanguínea para controle térmico do sistema digestório.
- d) secreção de enzimas digestivas para aumentar a degradação proteica no estômago.
- e) processo de digestão para diminuir o tempo de permanência do alimento no intestino.

5. A imagem representa uma ilustração retirada do livro *De Motu Cordis*, de autoria do médico inglês William Harvey, que fez importantes contribuições para o entendimento do processo de circulação do sangue no corpo humano. No experimento ilustrado, Harvey, após aplicar um torniquete (A) no braço de um voluntário e esperar alguns vasos incharem, pressionava-os em um ponto (H). Mantendo o ponto pressionado, deslocava o conteúdo de sangue em direção ao cotovelo, percebendo que um trecho do vaso sanguíneo permanecia vazio após esse processo (H - O).




Disponível em: [www.answers.com](http://www.answers.com). Acesso em: 18 dez. 2012 (adaptado).

A demonstração de Harvey permite estabelecer a relação entre circulação sanguínea e

- a) pressão arterial.
- b) válvulas venosas.
- c) circulação linfática.
- d) contração cardíaca.
- e) transporte de gases.

6.



DAVIS. J. *Garfield esta de dieta*. Porto Alegre: L&PM, 2006.

A condição física apresentada pelo personagem da tirinha é um fator de risco que pode desencadear doenças como

- a) anemia.
- b) beribéri.
- c) diabetes.
- d) escorbuto.
- e) fenilcetonúria.

7.



De acordo com o relatório "A grande sombra da pecuária" (*Livestock's Long Shadow*), feito pela Organização das Nações Unidas para a Agricultura e a Alimentação, o gado é responsável por cerca de 18% do aquecimento global, uma contribuição maior que a do setor de transportes.

Disponível em: [www.conpet.gov.br](http://www.conpet.gov.br). Acesso em: 22 jun. 2010.

A criação de gado em larga escala contribui para o aquecimento global por meio da emissão de

- a) metano durante o processo de digestão.
- b) óxido nitroso durante o processo de ruminação.
- c) clorofluorcarbono durante o transporte de carne.
- d) óxido nitroso durante o processo respiratório.
- e) dióxido de enxofre durante o consumo de pastagens.

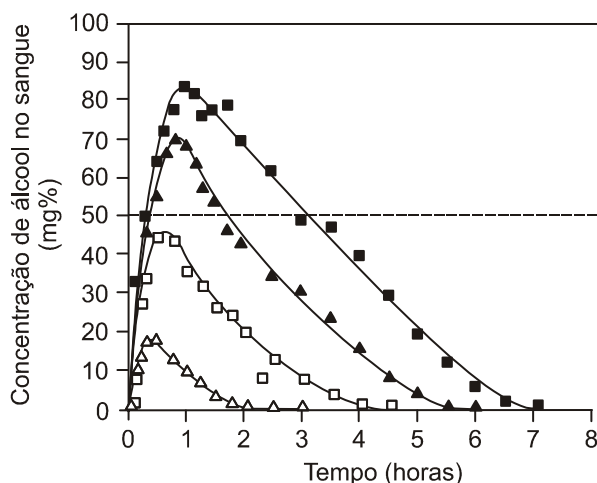
8. Um paciente deu entrada em um pronto-socorro apresentando os seguintes sintomas: cansaço, dificuldade em respirar e sangramento nasal. O médico solicitou um hemograma ao paciente para definir um diagnóstico. Os resultados estão dispostos na tabela:

Constituinte	Número normal	Paciente
Glóbulos vermelhos	4,8 milhões/mm <sup>3</sup>	4 milhões/mm <sup>3</sup>
Glóbulos brancos	(5 000 - 10 000)/mm <sup>3</sup>	9 000/mm <sup>3</sup>
Plaquetas	(250 000 - 400 000)/mm <sup>3</sup>	200 000/m <sup>3</sup>

Relacionando os sintomas apresentados pelo paciente com os resultados de seu hemograma, constata-se que

- a) o sangramento nasal é devido à baixa quantidade de plaquetas, que são responsáveis pela coagulação sanguínea.
- b) o cansaço ocorreu em função da quantidade de glóbulos brancos, que são responsáveis pela coagulação sanguínea.
- c) a dificuldade respiratória ocorreu da baixa quantidade de glóbulos vermelhos, que são responsáveis pela defesa imunológica.
- d) o sangramento nasal é decorrente da baixa quantidade de glóbulos brancos, que são responsáveis pelo transporte de gases no sangue.
- e) a dificuldade respiratória ocorreu pela quantidade de plaquetas, que são responsáveis pelo transporte de oxigênio no sangue.

9. Analise a figura.



Disponível em: <http://www.alcoologia.net>. Acesso em: 15 jul. 2009 (adaptado).

Supondo que seja necessário dar um título para essa figura, a alternativa que melhor traduziria o processo representado seria:

- a) Concentração média de álcool no sangue ao longo do dia.
- b) Variação da frequência da ingestão de álcool ao longo das horas.
- c) Concentração mínima de álcool no sangue a partir de diferentes dosagens.
- d) Estimativa de tempo necessário para metabolizar diferentes quantidades de álcool.
- e) Representação gráfica da distribuição de frequência de álcool em determinada hora do dia.

10. O metabolismo dos carboidratos é fundamental para o ser humano, pois a partir desses compostos orgânicos obtém-se grande parte da energia para as funções vitais. Por outro lado, desequilíbrios nesse processo podem provocar hiperglicemia ou diabetes.

O caminho do açúcar no organismo inicia-se com a ingestão de carboidratos que, chegando ao intestino, sofrem a ação de enzimas, "quebrando-se" em moléculas menores (glicose, por exemplo) que serão absorvidas.

A insulina, hormônio produzido no pâncreas, é responsável por facilitar a entrada da glicose nas células. Se uma pessoa produz pouca insulina, ou se sua ação está diminuída, dificilmente a glicose pode entrar na célula e ser consumida.

Com base nessas informações, pode-se concluir que:

- a) o papel realizado pelas enzimas pode ser diretamente substituído pelo hormônio insulina.
- b) a insulina produzida pelo pâncreas tem um papel enzimático sobre as moléculas de açúcar.
- c) o acúmulo de glicose no sangue é provocado pelo aumento da ação da insulina, levando o indivíduo a um quadro clínico de hiperglicemia.
- d) a diminuição da insulina circulante provoca um acúmulo de glicose no sangue.
- e) o principal papel da insulina é manter o nível de glicose suficientemente alto, evitando, assim, um quadro clínico de diabetes.

11. Matéria publicada em jornal diário discute o uso de anabolizantes (apelidados de "bombas") por praticantes de musculação. Segundo o jornal, os anabolizantes são hormônios que dão uma força extra aos músculos. Quem toma consegue ganhar massa muscular mais rápido que normalmente. Isso porque uma pessoa pode crescer até certo ponto, segundo sua herança genética e independentemente do quanto ela se exercite. Um professor de musculação diz: "Comecei a tomar bomba por conta própria. Ficava nervoso e tremia. Fiquei impotente durante uns seis meses. Mas como sou lutador de vale-tudo, tenho que tomar".

A respeito desta matéria, dois amigos fizeram os seguintes comentários:

- I. O maior perigo da automedicação é seu fator anabolizante, que leva à impotência sexual.
- II. O crescimento corporal depende tanto dos fatores hereditários quanto do tipo de alimentação da pessoa, se pratica ou não esportes, se dorme as 8 horas diárias.
- III. Os anabolizantes devem ter mexido com o sistema circulatório do professor de musculação, pois ele até ficou impotente.
- IV. Os anabolizantes são mais perigosos para os homens, pois as mulheres, além de não correrem o risco da impotência, são protegidas pelos hormônios femininos.

Tomando como referência as informações da matéria do jornal e o que se conhece da fisiologia humana, pode-se considerar que estão corretos os comentários:

- a) I, II, III e IV.
- b) I, II e IV, apenas.
- c) III e IV, apenas.
- d) II e III, apenas.
- e) I, II e III, apenas.